

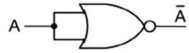
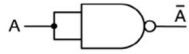


Rechnerarchitekturen, Kapitel 1.2

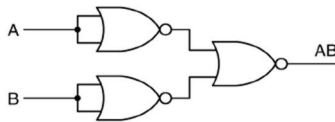
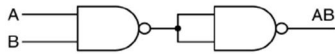
Kontrollfragen 1

1. Es stehen nur NAND  gates oder nur NOR  gates zur Verfügung.

a) Konstruieren Sie ein NOT



b) Konstruieren Sie ein AND



c) konstruieren Sie ein OR

